



نام درس:

نام و نام خانوادگی:

نام پدر:

پایه:

شماره دانش آموزی:

سری: ۳

صفحه: ۱

اداره کل آموزش و پرورش استان هرمزگان

مدیریت آموزش و پرورش شهرستان قشم

معاونت آموزش ابتدایی

نام آموزشگاه:

تاریخ آزمون:

مدت آزمون: ۹۰ دقیقه

ردیف	سوالات	بازخورد
۱	<p>درستی یا نادرستی عبارات های زیر را مشخص نمایید.</p> <p>الف- عدد ۷۶ بر ۳ بخش پذیر است چون رقم یکانش بر ۳ بخش پذیر است. <input type="checkbox"/> درست <input type="checkbox"/> نادرست</p> <p>ب- عددهای ...، ۴، ۳، ۲، ۱، ۰، ۱، ۲، ۳، ۴، ... را عددهای صحیح می نامیم. <input type="checkbox"/> درست <input type="checkbox"/> نادرست</p> <p>ج- هرگاه حاصل ضرب دو عدد برابر ۱ باشد، آ م دو عدد را معکوس یکدیگر می نامند. <input type="checkbox"/> درست <input type="checkbox"/> نادرست</p> <p>د- اگر طول و عرض نقطه ای به ترتیب ۷ و ۱۱ باشد، مختصات آن نقطه <math>[۱۱]</math> می باشد. <input type="checkbox"/> درست <input type="checkbox"/> نادرست</p>	
۲	<p>جاهای خالی را با عدد یا کلمه مناسب پر کنید.</p> <p>الف- جمله ی بیستم در الگوی (۲، ۴، ۶، ۸، ...) ..... است.</p> <p>ب- معکوس عدد <math>\frac{۲۱}{۳}</math> ..... است.</p> <p>ج- حاصل تفریق دو عدد زوج، ..... است.</p> <p>د- در تقارن عمودی مولفه ی ..... تغییر نمی کند.</p> <p>ه- <math>\frac{۵}{۹}</math> کیلوگرم ..... گرم است.</p>	
۳	<p>گزینه مناسب را انتخاب کنید.</p> <p>الف- کدام یک از اعداد زیر با تقریب کمتر از ۱۰۰ قطع شده و گرد شده ی آن یکی است؟</p> <p><input type="checkbox"/> الف) ۲۴۳۰ <input type="checkbox"/> ب) ۲۴۶۰ <input type="checkbox"/> ج) ۳۴۶۰ <input type="checkbox"/> د) ۴۴۷۰</p> <p>ب- متمم و مکمل زاویه ی ۲۵ درجه به ترتیب از راست به چپ عبارت است از:</p> <p><input type="checkbox"/> الف) ۱۴۵-۷۵ <input type="checkbox"/> ب) ۱۵۵-۶۵ <input type="checkbox"/> ج) ۱۶۵-۵۵ <input type="checkbox"/> د) ۱۵۵-۴۵</p> <p>ج- ارزش مکانی دهگان میلیون عدد ۶۳۸۳۱۵۶۸ کدام است؟</p> <p><input type="checkbox"/> الف) ۶ <input type="checkbox"/> ب) ۳ <input type="checkbox"/> ج) ۸ <input type="checkbox"/> د) ۴</p>	

ادامه در صفحه دوم



نام درس:

نام و نام خانوادگی:

نام پدر:

پایه:

شماره دانش آموزی:

سری: ۳

صفحه: ۲

اداره کل آموزش و پرورش استان هرمزگان

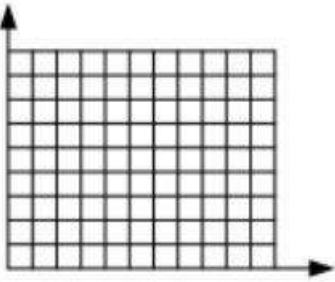
مدیریت آموزش و پرورش شهرستان قشم

معاونت آموزش ابتدایی

نام آموزشگاه:

تاریخ آزمون:

مدت آزمون: ۹۰ دقیقه

<p>د- کدام عدد با بقیه برابر نیست؟</p> <p>الف) <math>\square ۲/۰۹۰</math>      ب) <math>\square ۲/۰۹</math>      ج) <math>\square ۲/۰۰۹۰</math>      د) <math>\square ۲/۰۹۰۰</math></p>	
<p>مقایسه کنید و علامت (<math>\leq</math> یا <math>\geq</math>) قرار دهید.</p> <p>الف) <math>\square -۱۸</math>      ب) <math>\square ۱۳/۹۵</math>      ج) <math>\square +۴</math>      د) <math>\square -۳</math></p> <p>ه) <math>\square \frac{۵}{۶}</math>      و) <math>\square ۰/۵۰</math></p>	۴
<p>حاصل عبارت زیر را به دست آورید.</p> $\frac{۱\frac{۱}{۳} - ۱\frac{۱}{۳}}{۱\frac{۱}{۳} + ۱\frac{۱}{۳}} =$	۵
<p>تقسیم زیر را تا دو رقم اعشار در خارج قسمت بدست آورید.</p> <p>۴۳/۷۰      ۳۷</p> <h1 style="text-align: center;">جزوه سیپی</h1>	۶
<p>مختصات راس های یک چهارضلعی عبارت است از: <math>A[۵/۲]</math> , <math>B[۲/۵]</math> , <math>C[۵/۵]</math> , <math>D[۲/۲]</math></p> <p>الف) چهارضلعی را رسم کرده و نوع آن را مشخص کنید. ب) مساحت آن را بدست آورید.</p> 	۷
ادامه در صفحه سوم	



صفحه ۳:

سری: ۳

نام درس:

نام و نام خانوادگی:

نام پدر:

پایه:

شماره دانش آموزی:

نام آموزشگاه:

تاریخ آزمون:

مدت آزمون: ۹۰ دقیقه

اداره کل آموزش و پرورش استان هرمزگان

مدیریت آموزش و پرورش شهرستان قشم

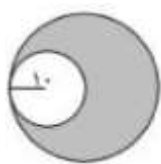
معاونت آموزش ابتدایی

حجم شکل روبه رو را بدست آورید.



۸

مساحت قسمت رنگی شکل را بدست آورید.



۹

قیمت یک کتاب ۲۴۰۰۰ تومان است. اگر فروشنده بخواهد آن را با ۱۰ درصد تخفیف بفروشد، کتاب با چه قیمتی به فروش می رسد؟

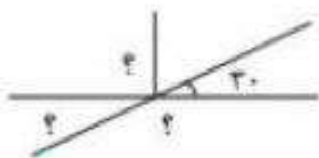
۱۰

مقدار تقریبی اعداد داخل جدول را بدست آورید.

عدد	با تقریب کمتر از	قطع کردن	گرد کردن
۲۸۷/۲۴۶	۰/۰۱		
۳۵۶۸	۱۰		

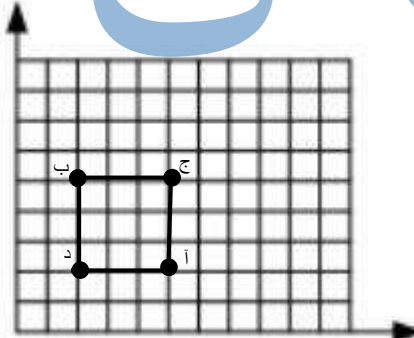
۱۱

اندازه ی زاویه خواسته شده را بیابید.



۱۲



ردیف	پاسخنامه				
۱	الف- نادرست      ب- درست      ج- درست      د- نادرست				
۲	الف- ۴۰      ب- $\frac{1}{9}$ ج- زوج      د- عرض ها (عمودی) ۵۹۰۰(ه)				
۳	الف- الف      ب- ب      ج- الف      د- ج				
۴	الف- >      ب- >      ج- <      د- <      ه- >      و- =				
۵	$\frac{1\frac{1}{2} - 1\frac{1}{3}}{1\frac{1}{2} + 1\frac{1}{3}} = \frac{1}{6} \div \frac{17}{6} = \frac{1}{6} \times \frac{6}{17} = \frac{1}{17}$				
۶	$\begin{array}{r} 43/70 \quad   \quad 37 \\ -37 \quad \quad   \quad 1/17 \\ \hline 67 \quad \quad   \\ -37 \quad \quad   \\ \hline 300 \quad \quad   \\ -259 \quad \quad   \\ \hline 41 \quad \quad   \end{array}$				
۷	<p>الف) مربع ب) <math>3 \times 3 = 9</math></p> 				
۸	سانتی متر مکعب $5 \times 4 \times 9 = 180$				
۹	<p>شعاع دایره بزرگ <math>10 \times 2 = 20</math></p> <p>مساحت دایره بزرگ <math>20 \times 20 \times \frac{3}{14} = 1256</math></p> <p>مساحت دایره کوچک <math>10 \times 10 \times \frac{3}{14} = 314</math></p> <p>مساحت قسمت رنگی <math>1256 - 314 = 942</math></p>				
۱۰	<table border="1" style="display: inline-table; vertical-align: middle;"> <tr> <td>۹۰</td> <td>□</td> </tr> <tr> <td>۱۰۰</td> <td>۲۴۰۰۰</td> </tr> </table> $\Rightarrow \square = \frac{24000 \times 90}{100} = 21600$	۹۰	□	۱۰۰	۲۴۰۰۰
۹۰	□				
۱۰۰	۲۴۰۰۰				



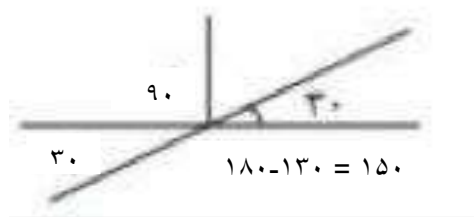
اداره کل آموزش و پرورش استان هرمزگان  
مدیریت آموزش و پرورش شهرستان قشم  
معاونت آموزش ابتدایی

تاریخ آزمون:

۱۱

عدد	با تقریب کمتر از	قطع کردن	گرد کردن
۲۸۷/۲۴۶	۰/۰۱	۲۸۷/۲۴	۲۸۷/۲۵
۳۵۶۸	۱۰	۳۵۶	۳۵۷

۱۲



# جزوه سیپی